

«Рассмотрено»
на школьном
методическом
объединение учителей
Руководитель ШМО
С. Франц ФИО
Протокол №
от « 29 » августа 2024 г

Согласовано
Заместитель директора по УВР
МОБУ «Судьбодаровская СОШ»
Г.Н. Михайлова / Михайлова Г.Н.
«30» августа 2024г.

Утверждено
Директор МОБУ
«Судьбодаровская» СОШ
С.Н. Азнабаева // Азнабаева С.Н.
Приказ №
от « 30 » августа 2024г.



РАБОЧАЯ ПРОГРАММА
по предмету «Геометрия»
основного общего образования,
7-9 класс
на 2024-2025 учебный год

Разработала:
Романова И.П.
учитель математики
высшей категории.

С.Судьбодаровка
2024

ПОЯСНИТЕЛЬНАЯ ЗАПИСКА

ОБЩАЯ ХАРАКТЕРИСТИКА УЧЕБНОГО КУРСА "ГЕОМЕТРИЯ"

Рабочая программа учебного курса «Геометрия» предназначена для 7-9 класса и разработана на основании следующих нормативных документов:

1. Федерального закона от 29 декабря 2012г. №273-ФЗ «Об образовании в Российской Федерации»;
2. Федерального Государственного образовательного стандарта основного общего образования, утвержденного приказом Министерства образования и науки РФ от 31.05.2021 № 286
3. Примерной основной образовательной программой основного общего образования (одобрена решением федерального учебно-методического объединения по общему образованию (протокол от 1/22 от 18.03.2022 г.);

Рабочая программа по учебному курсу "Геометрия" для обучающихся 7-9 классов разработана на основе Федерального государственного образовательного стандарта основного общего образования с учётом и современных мировых требований, предъявляемых к математическому образованию, и традиций российского образования, которые обеспечивают овладение ключевыми компетенциями, составляющими основу для непрерывного образования и саморазвития, а также целостность общекультурного, личностного и познавательного развития обучающихся. В программе учтены идеи и положения Концепции развития математического образования в Российской Федерации. В эпоху цифровой трансформации всех сфер человеческой деятельности невозможно стать образованным современным человеком без базовой математической подготовки. Уже в школе математика служит опорным предметом для изучения смежных дисциплин, а после школы реальной необходимостью становится непрерывное образование, что требует полноценной базовой общеобразовательной подготовки, в том числе и математической.

Это обусловлено тем, что в наши дни растёт число профессий, связанных с непосредственным применением математики: и в сфере экономики, и в бизнесе, и в технологических областях, и даже в гуманитарных сферах. Таким образом, круг школьников, для которых математика может стать значимым предметом, расширяется.

Практическая полезность математики обусловлена тем, что её предметом являются фундаментальные структуры нашего мира: пространственные формы и количественные отношения от простейших, усваиваемых в непосредственном опыте, до достаточно сложных, необходимых для развития научных и прикладных идей. Без конкретных математических знаний затруднено понимание принципов устройства и использования современной техники, восприятие и интерпретация разнообразной социальной, экономической, политической информации, малоэффективна повседневная практическая деятельность. Каждому человеку в своей жизни приходится выполнять расчёты и составлять алгоритмы, находить и применять формулы, владеть практическими приёмами геометрических измерений и построений, читать информацию, представленную в виде таблиц, диаграмм и графиков, жить в условиях неопределённости и понимать вероятностный характер случайных событий.

Одновременно с расширением сфер применения математики в современном обществе всё более важным становится математический стиль мышления, проявляющийся в определённых умственных навыках. В процессе изучения математики в арсенал приёмов и методов мышления человека естественным образом включаются индукция и дедукция, обобщение и конкретизация, анализ и синтез, классификация и систематизация, абстрагирование и аналогия. Объекты математических умозаключений, правила их конструирования раскрывают механизм логических построений, способствуют выработке умения формулировать, обосновывать и доказывать суждения, тем самым развивают логическое мышление. Ведущая роль принадлежит математике и в формировании алгоритмической компоненты мышления и воспитании умений действовать по заданным алгоритмам, совершенствовать известные и конструировать новые. В процессе решения задач — основой учебной деятельности на уроках математики — развиваются также творческая и прикладная стороны мышления.

Обучение математике даёт возможность развивать у обучающихся точную, рациональную и информативную речь, умение отбирать наиболее подходящие языковые, символические, графические средства для выражения суждений и наглядного их представления.

Необходимым компонентом общей культуры в современном толковании является общее знакомство с методами познания действительности, представление о предмете и методах математики, их отличий от методов других естественных и гуманитарных наук, об особенностях применения математики для

решения научных и прикладных задач. Таким образом, математическое образование вносит свой вклад в формирование общей культуры человека.

Изучение математики также способствует эстетическому воспитанию человека, пониманию красоты и изящества математических рассуждений, восприятию геометрических форм, усвоению идеи симметрии.

ЦЕЛИ ИЗУЧЕНИЯ УЧЕБНОГО КУРСА "ГЕОМЕТРИЯ"

«Математику уже затем учить надо, что она ум в порядок приводит», — писал великий русский ученый Михаил Васильевич Ломоносов. И в этом состоит одна из двух целей обучения геометрии как составной части математики в школе. Этой цели соответствует доказательная линия преподавания геометрии. Следуя представленной рабочей программе, начиная с седьмого класса на уроках геометрии обучающийся учится проводить доказательные рассуждения, строить логические умозаключения, доказывать истинные утверждения и строить контрпримеры к ложным, проводить рассуждения от «противного», отличать свойства от признаков, формулировать обратные утверждения. Ученик, овладевший искусством рассуждать, будет применять его и в окружающей жизни.

Как писал геометр и педагог Игорь Федорович Шарыгин, «людьми, понимающими, что такое доказательство, трудно и даже невозможно манипулировать». И в этом состоит важное воспитательное значение изучения геометрии, присущее именно отечественной математической школе. Вместе с тем авторы программы предостерегают учителя от излишнего формализма, особенно в отношении начал и оснований геометрии. Французский математик Жан Дьедонне по этому поводу высказался так: «Что касается деликатной проблемы введения «аксиом», то мне кажется, что на первых порах нужно вообще избегать произносить само это слово. С другой же стороны, не следует упускать ни одной возможности давать примеры логических заключений, которые куда в большей мере, чем идея аксиом, являются истинными и единственными двигателями математического мышления».

Второй целью изучения геометрии является использование её как инструмента при решении как математических, так и практических задач, встречающихся в реальной жизни. Окончивший курс геометрии школьник должен быть в состоянии определить геометрическую фигуру, описать словами данный чертёж или рисунок, найти площадь земельного участка, рассчитать необходимую длину оптоволоконного кабеля или требуемые размеры гаража для автомобиля. Этому соответствует вторая, вычислительная линия в изучении геометрии в школе. Данная практическая линия является не менее важной, чем первая. Ещё Платон предписывал, чтобы «граждане Прекрасного города ни в коем случае не оставляли геометрию, ведь немаловажно даже побочное её применение — в военном деле да, впрочем, и во всех науках — для лучшего их усвоения: мы ведь знаем, какая бесконечная разница существует между человеком причастным к геометрии и не причастным». Для этого учителю рекомендуется подбирать задачи практического характера для рассматриваемых тем, учить детей строить математические модели реальных жизненных ситуаций, проводить вычисления и оценивать адекватность полученного результата. Крайне важно подчёркивать связи геометрии с другими предметами, мотивировать использовать определения геометрических фигур и понятий, демонстрировать применение полученных умений в физике и технике. Эти связи наиболее ярко видны в темах «Векторы», «Тригонометрические соотношения», «Метод координат» и «Теорема Пифагора».

МЕСТО УЧЕБНОГО КУРСА В УЧЕБНОМ ПЛАНЕ

Согласно учебному плану в 7-9 классе изучается учебный курс «Геометрия», который включает следующие основные разделы содержания: «Геометрические фигуры и их свойства», «Измерение геометрических величин», а также «Декартовы координаты на плоскости», «Векторы», «Движения плоскости» и «Преобразования подобия». На изучение учебного курса «Геометрия» отводится 204 часа: в 7 классе – 68 часов (2 часа в неделю), в 8 классе – 68 часов (2 часа в неделю), в 9 классе – 68 часов (2 часа в неделю).

СОДЕРЖАНИЕ УЧЕБНОГО КУРСА "ГЕОМЕТРИЯ"

7 класс

Начальные понятия геометрии. Точка, прямая, отрезок, луч. Угол. Виды углов. Вертикальные и смежные углы. Биссектриса угла. Ломаная, многоугольник. Параллельность и перпендикулярность прямых.

Симметричные фигуры. Основные свойства осевой симметрии. Примеры симметрии в окружающем мире.

Основные построения с помощью циркуля и линейки.

Треугольник. Высота, медиана, биссектриса, их свойства. Равнобедренный и равносторонний треугольники. Неравенство треугольника.

Свойства и признаки равнобедренного треугольника. Признаки равенства треугольников.

Свойства и признаки параллельных прямых. Сумма углов треугольника. Внешние углы треугольника.

Прямоугольный треугольник. Свойство медианы прямоугольного треугольника, проведённой к гипотенузе. Признаки равенства прямоугольных треугольников. Прямоугольный треугольник с углом в 30° .

Неравенства в геометрии: неравенство треугольника, неравенство о длине ломаной, теорема о большем угле и большей стороне треугольника. Перпендикуляр и наклонная.

Геометрическое место точек. Биссектриса угла и серединный перпендикуляр к отрезку как геометрические места точек.

Окружность и круг, хорда и диаметр, их свойства. Взаимное расположение окружности и прямой. Касательная и секущая к окружности. Окружность, вписанная в угол. Вписанная и описанная окружности треугольника.

8 класс

Четырёхугольники. Параллелограмм, его признаки и свойства. Частные случаи параллелограммов (прямоугольник, ромб, квадрат), их признаки и свойства. Трапеция, равнобокая трапеция, её свойства и признаки. Прямоугольная трапеция.

Метод удвоения медианы. Центральная симметрия.

Теорема Фалеса и теорема о пропорциональных отрезках. Средние линии треугольника и трапеции. Центр масс треугольника.

Подобие треугольников, коэффициент подобия. Признаки подобия треугольников. Применение подобия при решении практических задач.

Свойства площадей геометрических фигур. Формулы для площади треугольника, параллелограмма, ромба и трапеции. Отношение площадей подобных фигур.

Вычисление площадей треугольников и многоугольников на клетчатой бумаге.

Теорема Пифагора. Применение теоремы Пифагора при решении практических задач.

Синус, косинус, тангенс острого угла прямоугольного треугольника. Основное тригонометрическое тождество. Тригонометрические функции углов в 30° , 45° и 60° .

Вписанные и центральные углы, угол между касательной и хордой. Углы между хордами и секущими. Вписанные и описанные четырёхугольники. Взаимное расположение двух окружностей. Касание окружностей. Общие касательные к двум окружностям.

9 класс

Синус, косинус, тангенс углов от 0 до 180° . Основное тригонометрическое тождество. Формулы приведения.

Решение треугольников. Теорема косинусов и теорема синусов. Решение практических задач с использованием теоремы косинусов и теоремы синусов.

Преобразование подобия. Подобие соответственных элементов.

Теорема о произведении отрезков хорд, теоремы о произведении отрезков секущих, теорема о квадрате касательной.

Вектор, длина (модуль) вектора, сонаправленные векторы, противоположно направленные векторы, коллинеарность векторов, равенство векторов, операции над векторами. Разложение вектора

по двум неколлинеарным векторам. Координаты вектора. Скалярное произведение векторов, применение для нахождения длин и углов.

Декартовы координаты на плоскости. Уравнения прямой и окружности в координатах, пересечение окружностей и прямых. Метод координат и его применение.

Правильные многоугольники. Длина окружности. Градусная и радианная мера угла, вычисление длин дуг окружностей. Площадь круга, сектора, сегмента.

Движения плоскости и внутренние симметрии фигур (элементарные представления). Параллельный перенос. Поворот.

ПЛАНИРУЕМЫЕ РЕЗУЛЬТАТЫ ОСВОЕНИЯ УЧЕБНОГО ПРЕДМЕТА «Математика»

ЛИЧНОСТНЫЕ РЕЗУЛЬТАТЫ

Личностные результаты освоения программы учебного предмета «Математика» характеризуются:

Патриотическое воспитание: проявлением интереса к прошлому и настоящему российской математики, ценностным отношением к достижениям российских математиков и российской математической школы, к использованию этих достижений в других науках и прикладных сферах.

Гражданское и духовно-нравственное воспитание:

готовностью к выполнению обязанностей гражданина и реализации его прав, представлением о математических основах функционирования различных структур, явлений, процедур гражданского общества (выборы, опросы и пр.); готовностью к обсуждению этических проблем, связанных с практическим применением достижений науки, осознанием важности морально-этических принципов в деятельности учёного. **Трудовое воспитание:** установкой на активное участие в решении практических задач математической направленности, осознанием важности математического образования на протяжении всей жизни для успешной профессиональной деятельности и развитием необходимых умений; осознанным выбором и построением индивидуальной траектории образования и жизненных планов с учётом личных интересов и общественных потребностей. **Эстетическое воспитание:** способностью к эмоциональному и эстетическому восприятию математических объектов, задач, решений, рассуждений; умению видеть математические закономерности в искусстве. **Ценности научного познания:** ориентацией в деятельности на современную систему научных представлений об основных закономерностях развития человека, природы и общества, пониманием математической науки как сферы человеческой деятельности, этапов её развития и значимости для развития цивилизации; овладением языком математики и математической культурой как средством познания мира; овладением простейшими навыками исследовательской деятельности.

Физическое воспитание, формирование культуры здоровья и эмоционального благополучия:

готовностью применять математические знания в интересах своего здоровья, ведения здорового образа жизни (здоровое питание, сбалансированный режим занятий и отдыха, регулярная физическая активность); сформированностью навыка рефлексии, признанием своего права на ошибку и такого же права другого человека. **Экологическое воспитание:** ориентацией на применение математических знаний для решения задач в области сохранности окружающей среды, планирования поступков и оценки их возможных последствий для окружающей среды; осознанием глобального характера экологических проблем и путей их решения.

Личностные результаты, обеспечивающие адаптацию обучающегося к изменяющимся условиям социальной и природной среды:

готовностью к действиям в условиях неопределённости, повышению уровня своей компетентности через практическую деятельность, в том числе умение учиться у других людей, приобретать в совместной деятельности новые знания, навыки и компетенции из опыта других; необходимостью в формировании новых знаний, в том числе формулировать идеи, понятия, гипотезы об объектах и явлениях, в том числе ранее не известных, осознавать дефициты собственных знаний и компетентностей, планировать своё развитие; способностью осознавать стрессовую ситуацию,

воспринимать стрессовую ситуацию как вызов, требующий контрмер, корректировать принимаемые решения и действия, формулировать и оценивать риски и последствия, формировать опыт.

МЕТАПРЕДМЕТНЫЕ РЕЗУЛЬТАТЫ

Метапредметные результаты освоения программы учебного предмета «Математика» характеризуются овладением *универсальными познавательными действиями, универсальными коммуникативными действиями и универсальными регулятивными действиями.*

1) Универсальные познавательные действия обеспечивают формирование базовых когнитивных процессов обучающихся (освоение методов познания окружающего мира; применение логических, исследовательских операций, умений работать с информацией).

Базовые логические действия:

- выявлять и характеризовать существенные признаки математических объектов, понятий, отношений между понятиями; формулировать определения понятий; устанавливать существенный признак классификации, основания для обобщения и сравнения, критерии проводимого анализа;
- воспринимать, формулировать и преобразовывать суждения: утвердительные и отрицательные, единичные, частные и общие; условные;
- выявлять математические закономерности, взаимосвязи и противоречия в фактах, данных, наблюдениях и утверждениях; предлагать критерии для выявления закономерностей и противоречий;
- делать выводы с использованием законов логики, дедуктивных и индуктивных умозаключений, умозаключений по аналогии;
- разбирать доказательства математических утверждений (прямые и от противного), проводить самостоятельно несложные доказательства математических фактов, выстраивать аргументацию, приводить примеры и контрпримеры; обосновывать собственные рассуждения;
- выбирать способ решения учебной задачи (сравнивать несколько вариантов решения, выбирать наиболее подходящий с учётом самостоятельно выделенных критериев). **Базовые**

исследовательские действия:

- использовать вопросы как исследовательский инструмент познания; формулировать вопросы, фиксирующие противоречие, проблему, самостоятельно устанавливать искомое и данное, формировать гипотезу, аргументировать свою позицию, мнение; проводить по самостоятельно составленному плану несложный эксперимент, небольшое исследование по установлению особенностей математического объекта, зависимостей объектов между собой;
- самостоятельно формулировать обобщения и выводы по результатам проведённого наблюдения, исследования, оценивать достоверность полученных результатов, выводов и обобщений;
- прогнозировать возможное развитие процесса, а также выдвигать предположения о его развитии в новых условиях. **Работа с информацией:**

- выявлять недостаточность и избыточность информации, данных, необходимых для решения задачи;
- выбирать, анализировать, систематизировать и интерпретировать информацию различных видов и форм представления;
- выбирать форму представления информации и иллюстрировать решаемые задачи схемами, диаграммами, иной графикой и их комбинациями;
- оценивать надёжность информации по критериям, предложенным учителем или сформулированным самостоятельно.

2) *Универсальные коммуникативные действия обеспечивают сформированность социальных навыков обучающихся. Общение:*

- воспринимать и формулировать суждения в соответствии с условиями и целями общения; ясно, точно, грамотно выражать свою точку зрения в устных и письменных текстах, давать пояснения по ходу решения задачи, комментировать полученный результат;
- в ходе обсуждения задавать вопросы по существу обсуждаемой темы, проблемы, решаемой задачи, высказывать идеи, нацеленные на поиск решения; сопоставлять свои суждения с суждениями других участников диалога, обнаруживать различие и сходство позиций; в корректной форме формулировать разногласия, свои возражения;
- представлять результаты решения задачи, эксперимента, исследования, проекта; самостоятельно выбирать формат выступления с учётом задач презентации и особенностей аудитории. **Сотрудничество:**
- понимать и использовать преимущества командной и индивидуальной работы при решении учебных математических задач; принимать цель совместной деятельности, планировать организацию совместной работы, распределять виды работ, договариваться, обсуждать процесс и результат работы; обобщать мнения нескольких людей;
- участвовать в групповых формах работы (обсуждения, обмен мнениями, мозговые штурмы и др.); выполнять свою часть работы и координировать свои действия с другими членами команды; оценивать качество своего вклада в общий продукт по критериям, сформулированным участниками взаимодействия.

3) *Универсальные регулятивные действия обеспечивают формирование смысловых установок и жизненных навыков личности. Самоорганизация:*

- самостоятельно составлять план, алгоритм решения задачи (или его часть), выбирать способ решения с учётом имеющихся ресурсов и собственных возможностей, аргументировать и корректировать варианты решений с учётом новой информации. **Самоконтроль:**
- владеть способами самопроверки, самоконтроля процесса и результата решения математической задачи;
- предвидеть трудности, которые могут возникнуть при решении задачи, вносить коррективы в деятельность на основе новых обстоятельств, найденных ошибок, выявленных трудностей;
- оценивать соответствие результата деятельности поставленной цели и условиям, объяснять причины достижения или недостижения цели, находить ошибку, давать оценку приобретённому опыту.

ПРЕДМЕТНЫЕ РЕЗУЛЬТАТЫ

Освоение учебного курса «Геометрия» на уровне основного общего образования обеспечивает достижение следующих предметных образовательных результатов:

7 класс

- Распознавать изученные геометрические фигуры, определять их взаимное расположение, изображать геометрические фигуры; выполнять чертежи по условию задачи. Измерять линейные и угловые величины. Решать задачи на вычисление длин отрезков и величин углов.
- Делать грубую оценку линейных и угловых величин предметов в реальной жизни, размеров природных объектов. Различать размеры этих объектов по порядку величины.
- Строить чертежи к геометрическим задачам.
- Пользоваться признаками равенства треугольников, использовать признаки и свойства равнобедренных треугольников при решении задач.
- Проводить логические рассуждения с использованием геометрических теорем.

- Пользоваться признаками равенства прямоугольных треугольников, свойством медианы, проведённой к гипотенузе прямоугольного треугольника, в решении геометрических задач.
- Определять параллельность прямых с помощью углов, которые образует с ними секущая. Определять параллельность прямых с помощью равенства расстояний от точек одной прямой до точек другой прямой.
- Решать задачи на клетчатой бумаге.
- Проводить вычисления и находить числовые и буквенные значения углов в геометрических задачах с использованием суммы углов треугольников и многоугольников, свойств углов, образованных при пересечении двух параллельных прямых секущей. Решать практические задачи на нахождение углов.
- Владеть понятием геометрического места точек. Уметь определять биссектрису угла и серединный перпендикуляр к отрезку как геометрические места точек.
- Формулировать определения окружности и круга, хорды и диаметра окружности, пользоваться их свойствами. Уметь применять эти свойства при решении задач. Владеть понятием описанной около треугольника окружности, уметь находить её центр. Пользоваться фактами о том, что биссектрисы углов треугольника пересекаются в одной точке, и о том, что серединные перпендикуляры к сторонам треугольника пересекаются в одной точке.
- Владеть понятием касательной к окружности, пользоваться теоремой о перпендикулярности касательной и радиуса, проведённого к точке касания.
- Пользоваться простейшими геометрическими неравенствами, понимать их практический смысл.
- Проводить основные геометрические построения с помощью циркуля и линейки.

8 класс

- Распознавать основные виды четырёхугольников, их элементы, пользоваться их свойствами при решении геометрических задач.
- Применять свойства точки пересечения медиан треугольника (центра масс) в решении задач.
- Владеть понятием средней линии треугольника и трапеции, применять их свойства при решении геометрических задач. Пользоваться теоремой Фалеса и теоремой о пропорциональных отрезках, применять их для решения практических задач.
- Применять признаки подобия треугольников в решении геометрических задач.
- Пользоваться теоремой Пифагора для решения геометрических и практических задач. Строить математическую модель в практических задачах, самостоятельно делать чертёж и находить соответствующие длины.
- Владеть понятиями синуса, косинуса и тангенса острого угла прямоугольного треугольника. Пользоваться этими понятиями для решения практических задач.
- Вычислять (различными способами) площадь треугольника и площади многоугольных фигур (пользуясь, где необходимо, калькулятором). Применять полученные умения в практических задачах.
- Владеть понятиями вписанного и центрального угла, использовать теоремы о вписанных углах, углах между хордами (секущими) и угле между касательной и хордой при решении геометрических задач.
- Владеть понятием описанного четырёхугольника, применять свойства описанного четырёхугольника при решении задач. Применять полученные знания на практике — строить математические модели для задач реальной жизни и проводить соответствующие вычисления с применением подобия и тригонометрии (пользуясь, где необходимо, калькулятором).

9 класс

- Знать тригонометрические функции острых углов, находить с их помощью различные элементы прямоугольного треугольника («решение прямоугольных треугольников»). Находить (с помощью калькулятора) длины и углы для не табличных значений.
- Пользоваться формулами приведения и основным тригонометрическим тождеством для нахождения соотношений между тригонометрическими величинами.
- Использовать теоремы синусов и косинусов для нахождения различных элементов треугольника («решение треугольников»), применять их при решении геометрических задач.
- Владеть понятиями преобразования подобия, соответственных элементов подобных фигур. Пользоваться свойствами подобия произвольных фигур, уметь вычислять длины и находить углы у подобных фигур. Применять свойства подобия в практических задачах. Уметь приводить примеры подобных фигур в окружающем мире.
- Пользоваться теоремами о произведении отрезков хорд, о произведении отрезков секущих, о квадрате касательной.
- Пользоваться векторами, понимать их геометрический и физический смысл, применять их в решении геометрических и физических задач. Применять скалярное произведение векторов для нахождения длин и углов.
- Пользоваться методом координат на плоскости, применять его в решении геометрических и практических задач.
- Владеть понятиями правильного многоугольника, длины окружности, длины дуги окружности и радианной меры угла, уметь вычислять площадь круга и его частей. Применять полученные умения в практических задачах.
- Находить оси (или центры) симметрии фигур, применять движения плоскости в простейших случаях.
- Применять полученные знания на практике — строить математические модели для задач реальной жизни и проводить соответствующие вычисления с применением подобия и тригонометрических функций (пользуясь, где необходимо, калькулятором).

ТЕМАТИЧЕСКОЕ ПЛАНИРОВАНИЕ УЧЕБНОГО КУРСА

Геометрия 7 класс

№ п/п	Наименование разделов и тем программы	Количество часов			Электронные (цифровые) образовательные ресурсы
		Всего	Контрольные работы	Практические работы	
1	Простейшие геометрические фигуры и их свойства. Измерение геометрических величин	14			Библиотека ЦОК https://m.edsoo.ru/7f415e2e
2	Треугольники	22	1		Библиотека ЦОК https://m.edsoo.ru/7f415e2e
3	Параллельные прямые, сумма углов треугольника	14	1		Библиотека ЦОК https://m.edsoo.ru/7f415e2e
4	Окружность и круг. Геометрические построения	14	1		Библиотека ЦОК https://m.edsoo.ru/7f415e2e

5	Повторение, обобщение знаний	4	1		Библиотека ЦОК https://m.edsoo.ru/7f415e2e
ОБЩЕЕ КОЛИЧЕСТВО ЧАСОВ ПО ПРОГРАММЕ		68	4	0	

8 КЛАСС

№ п/п	Наименование разделов и тем программы	Количество часов			Электронные (цифровые) образовательные ресурсы
		Всего	Контрольные работы	Практические работы	
1	Четырёхугольники	12	1		Библиотека ЦОК https://m.edsoo.ru/7f417e18
2	Теорема Фалеса и теорема о пропорциональных отрезках, подобные треугольники	15	1		Библиотека ЦОК https://m.edsoo.ru/7f417e18
3	Площадь. Нахождение площадей треугольников и многоугольных фигур. Площади подобных фигур	14	1		Библиотека ЦОК https://m.edsoo.ru/7f417e18
4	Теорема Пифагора и начала тригонометрии	10	1		Библиотека ЦОК https://m.edsoo.ru/7f417e18
5	Углы в окружности. Вписанные и описанные четырёхугольники. Касательные к окружности. Касание окружностей	13	1		Библиотека ЦОК https://m.edsoo.ru/7f417e18
6	Повторение, обобщение знаний	4	1		Библиотека ЦОК https://m.edsoo.ru/7f417e18
ОБЩЕЕ КОЛИЧЕСТВО ЧАСОВ ПО ПРОГРАММЕ		68	6	0	

9 КЛАСС

№ п/п	Наименование разделов и тем программы	Количество часов			Электронные (цифровые) образовательные ресурсы
		Всего	Контрольные работы	Практические работы	

1	Тригонометрия. Теоремы косинусов и синусов. Решение треугольников	16	1		Библиотека ЦОК https://m.edsoo.ru/7f41a12c
2	Преобразование подобия. Метрические соотношения в окружности	10	1		Библиотека ЦОК https://m.edsoo.ru/7f41a12c
3	Векторы	12	1		Библиотека ЦОК https://m.edsoo.ru/7f41a12c
4	Декартовы координаты на плоскости	9	1		Библиотека ЦОК https://m.edsoo.ru/7f41a12c
5	Правильные многоугольники. Длина окружности и площадь круга. Вычисление площадей	8			Библиотека ЦОК https://m.edsoo.ru/7f41a12c
6	Движения плоскости	6			Библиотека ЦОК https://m.edsoo.ru/7f41a12c
7	Повторение, обобщение, систематизация знаний	7	2		Библиотека ЦОК https://m.edsoo.ru/7f41a12c
ОБЩЕЕ КОЛИЧЕСТВО ЧАСОВ ПО ПРОГРАММЕ		68	6	0	

ПОУРОЧНОЕ ПЛАНИРОВАНИЕ 7 геометрия

№ п/п	Тема урока	Кол-во часов	Дата изучения		Электронные цифровые образовательные ресурсы
			План	Факт	
1	Простейшие геометрические объекты	1			Библиотека ЦОК https://m.edsoo.ru/8866b724
2	Многоугольник, ломаная	1			Библиотека ЦОК https://m.edsoo.ru/8866cb6a
3	Смежные и вертикальные углы	1			Библиотека ЦОК https://m.edsoo.ru/8866c5c0
4	Смежные и вертикальные углы	1			Библиотека ЦОК https://m.edsoo.ru/8866c7be
5	Смежные и вертикальные углы	1			

6	Смежные и вертикальные углы	1			
7	Смежные и вертикальные углы	1			
8	Смежные и вертикальные углы	1			
9	Измерение линейных и угловых величин, вычисление отрезков и углов	1			
10	Измерение линейных и угловых величин, вычисление отрезков и углов	1			Библиотека ЦОК https://m.edsoo.ru/8866c3ea
11	Измерение линейных и угловых величин, вычисление отрезков и углов	1			
12	Измерение линейных и угловых величин, вычисление отрезков и углов	1			
13	Периметр и площадь фигур, составленных из прямоугольников	1			
14	Периметр и площадь фигур, составленных из прямоугольников	1			
15	Понятие о равных треугольниках и первичные представления о равных фигурах	1			Библиотека ЦОК https://m.edsoo.ru/8866ce80
16	Три признака равенства треугольников	1			Библиотека ЦОК https://m.edsoo.ru/8866d1fa
17	Три признака равенства треугольников	1			Библиотека ЦОК https://m.edsoo.ru/8866d34e
18	Три признака равенства треугольников	1			Библиотека ЦОК https://m.edsoo.ru/8866e01e
19	Три признака равенства треугольников	1			
20	Три признака равенства треугольников	1			
21	Три признака равенства треугольников	1			Библиотека ЦОК https://m.edsoo.ru/8866e88e
22	Признаки равенства прямоугольных треугольников	1			
23	Признаки равенства прямоугольных треугольников	1			
24	Свойство медианы прямоугольного треугольника, проведённой к гипотенузе	1			Библиотека ЦОК https://m.edsoo.ru/8866e9ec
25	Свойство медианы прямоугольного треугольника, проведённой к гипотенузе	1			
26	Равнобедренные и равносторонние треугольники	1			Библиотека ЦОК https://m.edsoo.ru/8866d6fa
27	Признаки и свойства равнобедренного треугольника	1			Библиотека ЦОК https://m.edsoo.ru/8866d880
28	Признаки и свойства равнобедренного треугольника	1			Библиотека ЦОК https://m.edsoo.ru/8866d880
29	Признаки и свойства равнобедренного треугольника	1			Библиотека ЦОК https://m.edsoo.ru/8866e26c
30	Неравенства в геометрии	1			
31	Неравенства в геометрии	1			Библиотека ЦОК https://m.edsoo.ru/8866e3a2
32	Неравенства в геометрии	1			
33	Неравенства в геометрии	1			
34	Прямоугольный треугольник с углом в 30°	1			Библиотека ЦОК https://m.edsoo.ru/8866eb22

35	Прямоугольный треугольник с углом в 30°	1			
36	Контрольная работа по теме "Треугольники"	1			Библиотека ЦОК https://m.edsoo.ru/8866ecbc
37	Параллельные прямые, их свойства	1			Библиотека ЦОК https://m.edsoo.ru/8866ef64
38	Пятый постулат Евклида	1			
39	Накрест лежащие, соответственные и односторонние углы, образованные при пересечении параллельных прямых секущей	1			Библиотека ЦОК https://m.edsoo.ru/8866f086
40	Накрест лежащие, соответственные и односторонние углы, образованные при пересечении параллельных прямых секущей	1			
41	Накрест лежащие, соответственные и односторонние углы, образованные при пересечении параллельных прямых секущей	1			
42	Накрест лежащие, соответственные и односторонние углы, образованные при пересечении параллельных прямых секущей	1			
43	Накрест лежащие, соответственные и односторонние углы, образованные при пересечении параллельных прямых секущей	1			Библиотека ЦОК https://m.edsoo.ru/8866f3b0
44	Признак параллельности прямых через равенство расстояний от точек одной прямой до второй прямой	1			
45	Признак параллельности прямых через равенство расстояний от точек одной прямой до второй прямой	1			
46	Сумма углов треугольника	1			Библиотека ЦОК https://m.edsoo.ru/8866f630
47	Сумма углов треугольника	1			Библиотека ЦОК https://m.edsoo.ru/8866f8ba
48	Внешние углы треугольника	1			Библиотека ЦОК https://m.edsoo.ru/8866fa5e
49	Внешние углы треугольника	1			
50	Контрольная работа по теме "Параллельные прямые, сумма углов треугольника"	1			Библиотека ЦОК https://m.edsoo.ru/8866fe6e
51	Окружность, хорды и диаметр, их свойства	1			Библиотека ЦОК https://m.edsoo.ru/88670800
52	Касательная к окружности	1			Библиотека ЦОК https://m.edsoo.ru/88670e9a
53	Окружность, вписанная в угол	1			
54	Окружность, вписанная в угол	1			
55	Понятие о ГМТ, применение в задачах	1			Библиотека ЦОК https://m.edsoo.ru/8867013e
56	Понятие о ГМТ, применение в задачах	1			Библиотека ЦОК https://m.edsoo.ru/88670508
57	Биссектриса и серединный перпендикуляр	1			

	как геометрические места точек				
58	Окружность, описанная около треугольника	1			Библиотека ЦОК https://m.edsoo.ru/88670a62
59	Окружность, описанная около треугольника	1			
60	Окружность, вписанная в треугольник	1			Библиотека ЦОК https://m.edsoo.ru/8867103e
61	Окружность, вписанная в треугольник	1			
62	Простейшие задачи на построение	1			Библиотека ЦОК https://m.edsoo.ru/88671188
63	Простейшие задачи на построение	1			Библиотека ЦОК https://m.edsoo.ru/886712d2
64	Контрольная работа по теме "Окружность и круг. Геометрические построения"	1			Библиотека ЦОК https://m.edsoo.ru/88671462
65	Повторение и обобщение знаний основных понятий и методов курса 7 класса	1			Библиотека ЦОК https://m.edsoo.ru/886715b6
66	Промежуточная аттестация. Публичный зачет	1			Библиотека ЦОК https://m.edsoo.ru/886716ec
67	Промежуточная аттестация. Публичный зачет	1			
68	Повторение и обобщение знаний основных понятий и методов курса 7 класса	1			
ОБЩЕЕ КОЛИЧЕСТВО ЧАСОВ ПО ПРОГРАММЕ		68			

ПОУРОЧНОЕ ПЛАНИРОВАНИЕ 8 класс

№ п/п	Тема урока	Кол-во часов	Дата изучения		Электронные цифровые образовательные ресурсы
			План	Факт	
1	Параллелограмм, его признаки и свойства	1			Библиотека ЦОК https://m.edsoo.ru/88671af2
2	Параллелограмм, его признаки и свойства	1			Библиотека ЦОК https://m.edsoo.ru/88671ca0
3	Параллелограмм, его признаки и свойства	1			Библиотека ЦОК https://m.edsoo.ru/88671ca0
4	Частные случаи параллелограммов (прямоугольник, ромб, квадрат), их признаки и свойства	1			Библиотека ЦОК https://m.edsoo.ru/88671dea
5	Частные случаи параллелограммов (прямоугольник, ромб, квадрат), их признаки и свойства	1			Библиотека ЦОК https://m.edsoo.ru/88671f20
6	Частные случаи параллелограммов (прямоугольник, ромб, квадрат), их признаки и свойства	1			Библиотека ЦОК https://m.edsoo.ru/8867209c
7	Трапеция	1			Библиотека ЦОК https://m.edsoo.ru/88672358
8	Равнобокая и прямоугольная трапеции	1			Библиотека ЦОК

				https://m.edsoo.ru/8867252e
9	Равнобокая и прямоугольная трапеции	1		Библиотека ЦОК https://m.edsoo.ru/88672858
10	Метод удвоения медианы	1		Библиотека ЦОК https://m.edsoo.ru/88672b14
11	Центральная симметрия	1		Библиотека ЦОК https://m.edsoo.ru/88672b14
12	Контрольная работа по теме "Четырёхугольники"	1		Библиотека ЦОК https://m.edsoo.ru/88672c9a
13	Теорема Фалеса и теорема о пропорциональных отрезках	1		Библиотека ЦОК https://m.edsoo.ru/8867337a
14	Средняя линия треугольника	1		Библиотека ЦОК https://m.edsoo.ru/88672e0c
15	Средняя линия треугольника	1		Библиотека ЦОК https://m.edsoo.ru/88672f38
16	Трапеция, её средняя линия	1		Библиотека ЦОК https://m.edsoo.ru/88672358
17	Трапеция, её средняя линия	1		Библиотека ЦОК https://m.edsoo.ru/88673064
18	Пропорциональные отрезки	1		Библиотека ЦОК https://m.edsoo.ru/88673794
19	Пропорциональные отрезки	1		Библиотека ЦОК https://m.edsoo.ru/88673794
20	Центр масс в треугольнике	1		Библиотека ЦОК https://m.edsoo.ru/886738fc
21	Подобные треугольники	1		Библиотека ЦОК https://m.edsoo.ru/88673a78
22	Три признака подобия треугольников	1		Библиотека ЦОК https://m.edsoo.ru/88673bae
23	Три признака подобия треугольников	1		Библиотека ЦОК https://m.edsoo.ru/88673d52
24	Три признака подобия треугольников	1		Библиотека ЦОК https://m.edsoo.ru/8867400e
25	Три признака подобия треугольников	1		
26	Применение подобия при решении практических задач	1		
27	Контрольная работа по теме "Подобные треугольники"	1		Библиотека ЦОК https://m.edsoo.ru/8867445a
28	Свойства площадей геометрических фигур	1		Библиотека ЦОК https://m.edsoo.ru/886745fe
29	Формулы для площади треугольника, параллелограмма	1		Библиотека ЦОК https://m.edsoo.ru/88674860
30	Формулы для площади треугольника, параллелограмма	1		Библиотека ЦОК https://m.edsoo.ru/88674a22
31	Формулы для площади треугольника, параллелограмма	1		Библиотека ЦОК https://m.edsoo.ru/88674a22
32	Формулы для площади треугольника, параллелограмма	1		Библиотека ЦОК https://m.edsoo.ru/88675288
33	Формулы для площади треугольника, параллелограмма	1		Библиотека ЦОК https://m.edsoo.ru/8867542c
34	Вычисление площадей сложных фигур	1		Библиотека ЦОК https://m.edsoo.ru/88674e78
35	Площади фигур на клетчатой бумаге	1		Библиотека ЦОК

				https://m.edsoo.ru/8867473e
36	Площади подобных фигур	1		
37	Площади подобных фигур	1		
38	Задачи с практическим содержанием	1		Библиотека ЦОК https://m.edsoo.ru/88675558
39	Задачи с практическим содержанием	1		Библиотека ЦОК https://m.edsoo.ru/88675684
40	Решение задач с помощью метода вспомогательной площади	1		Библиотека ЦОК https://m.edsoo.ru/88674f90
41	Контрольная работа по теме "Площадь"	1		Библиотека ЦОК https://m.edsoo.ru/8867579c
42	Теорема Пифагора и её применение	1		Библиотека ЦОК https://m.edsoo.ru/88675918
43	Теорема Пифагора и её применение	1		Библиотека ЦОК https://m.edsoo.ru/88675918
44	Теорема Пифагора и её применение	1		Библиотека ЦОК https://m.edsoo.ru/88675abc
45	Теорема Пифагора и её применение	1		
46	Теорема Пифагора и её применение	1		
47	Определение тригонометрических функций острого угла прямоугольного треугольника, тригонометрические соотношения в прямоугольном треугольнике	1		Библиотека ЦОК https://m.edsoo.ru/88675d32
48	Основное тригонометрическое тождество	1		Библиотека ЦОК https://m.edsoo.ru/88675f44
49	Основное тригонометрическое тождество	1		
50	Основное тригонометрическое тождество	1		
51	Контрольная работа по теме "Теорема Пифагора и начала тригонометрии"	1		Библиотека ЦОК https://m.edsoo.ru/8a1407e8
52	Вписанные и центральные углы, угол между касательной и хордой	1		Библиотека ЦОК https://m.edsoo.ru/8a1415b2
53	Вписанные и центральные углы, угол между касательной и хордой	1		Библиотека ЦОК https://m.edsoo.ru/8a141940
54	Вписанные и центральные углы, угол между касательной и хордой	1		Библиотека ЦОК https://m.edsoo.ru/8a141b34
55	Углы между хордами и секущими	1		
56	Углы между хордами и секущими	1		
57	Вписанные и описанные четырёхугольники, их признаки и свойства	1		Библиотека ЦОК https://m.edsoo.ru/8a140f86
58	Вписанные и описанные четырёхугольники, их признаки и свойства	1		Библиотека ЦОК https://m.edsoo.ru/8a1416d4
59	Вписанные и описанные четырёхугольники, их признаки и свойства	1		Библиотека ЦОК https://m.edsoo.ru/8a1416d4
60	Применение свойств вписанных и описанных четырёхугольников при решении геометрических задач	1		
61	Применение свойств вписанных и описанных четырёхугольников при решении геометрических задач	1		
62	Взаимное расположение двух окружностей, общие касательные	1		Библиотека ЦОК https://m.edsoo.ru/8a1410a8
63	Касание окружностей	1		Библиотека ЦОК

				https://m.edsoo.ru/8a1410a8
64	Промежуточная аттестация. Публичный зачет	1		Библиотека ЦОК https://m.edsoo.ru/8a141c88
65	Промежуточная аттестация. Публичный зачет	1		Библиотека ЦОК https://m.edsoo.ru/8a141ddc
66	Повторение основных понятий и методов курсов 7 и 8 классов, обобщение знаний	1		Библиотека ЦОК https://m.edsoo.ru/8a141efe
67	Повторение основных понятий и методов курсов 7 и 8 классов, обобщение знаний	1		Библиотека ЦОК https://m.edsoo.ru/8a142368
68	Повторение основных понятий и методов курсов 7 и 8 классов, обобщение знаний	1		Библиотека ЦОК https://m.edsoo.ru/8a1420ac
ОБЩЕЕ КОЛИЧЕСТВО ЧАСОВ ПО ПРОГРАММЕ		68		

ПОУРОЧНОЕ ПЛАНИРОВАНИЕ 9 класс

№ п/п	Тема урока	Кол-во часов	Дата изучения		Электронные цифровые образовательные ресурсы
			План	Факт	
1	Определение тригонометрических функций углов от 0° до 180°	1			Библиотека ЦОК https://m.edsoo.ru/8a1424bc
2	Формулы приведения	1			
3	Теорема косинусов	1			Библиотека ЦОК https://m.edsoo.ru/8a14336c
4	Теорема косинусов	1			
5	Теорема косинусов	1			Библиотека ЦОК https://m.edsoo.ru/8a142d5e
6	Теорема синусов	1			Библиотека ЦОК https://m.edsoo.ru/8a142e8a
7	Теорема синусов	1			
8	Теорема синусов	1			
9	Нахождение длин сторон и величин углов треугольников	1			Библиотека ЦОК https://m.edsoo.ru/8a1430b0
10	Решение треугольников	1			Библиотека ЦОК https://m.edsoo.ru/8a142ac0
11	Решение треугольников	1			Библиотека ЦОК https://m.edsoo.ru/8a142ac0
12	Решение треугольников	1			Библиотека ЦОК https://m.edsoo.ru/8a142ac0
13	Решение треугольников	1			Библиотека ЦОК https://m.edsoo.ru/8a142ac0
14	Практическое применение теорем синусов и косинусов	1			Библиотека ЦОК https://m.edsoo.ru/8a142c3c
15	Контрольная работа по теме "Решение треугольников"	1			
16	Практическое применение теорем синусов и	1			Библиотека ЦОК

	косинусов				https://m.edsoo.ru/8a14392a
17	Понятие о преобразовании подобия	1			Библиотека ЦОК https://m.edsoo.ru/8a143ab0
18	Соответственные элементы подобных фигур	1			Библиотека ЦОК https://m.edsoo.ru/8a143de4
19	Соответственные элементы подобных фигур	1			
20	Теорема о произведении отрезков хорд, теорема о произведении отрезков секущих, теорема о квадрате касательной	1			Библиотека ЦОК https://m.edsoo.ru/8a14406e
21	Теорема о произведении отрезков хорд, теорема о произведении отрезков секущих, теорема о квадрате касательной	1			Библиотека ЦОК https://m.edsoo.ru/8a1441a4
22	Теорема о произведении отрезков хорд, теорема о произведении отрезков секущих, теорема о квадрате касательной	1			Библиотека ЦОК https://m.edsoo.ru/8a1442da
23	Применение теорем в решении геометрических задач	1			Библиотека ЦОК https://m.edsoo.ru/8a143f06
24	Применение теорем в решении геометрических задач	1			Библиотека ЦОК https://m.edsoo.ru/8a1443fc
25	Применение теорем в решении геометрических задач	1			Библиотека ЦОК https://m.edsoo.ru/8a144578
26	Контрольная работа по теме "Преобразование подобия. Метрические соотношения в окружности"	1			Библиотека ЦОК https://m.edsoo.ru/8a1447a8
27	Определение векторов. Физический и геометрический смысл векторов	1			Библиотека ЦОК https://m.edsoo.ru/8a144960
28	Сложение и вычитание векторов, умножение вектора на число	1			Библиотека ЦОК https://m.edsoo.ru/8a144a8c
29	Сложение и вычитание векторов, умножение вектора на число	1			Библиотека ЦОК https://m.edsoo.ru/8a144d52
30	Сложение и вычитание векторов, умножение вектора на число	1			
31	Разложение вектора по двум неколлинеарным векторам	1			
32	Координаты вектора	1			Библиотека ЦОК https://m.edsoo.ru/8a144fbe
33	Скалярное произведение векторов, его применение для нахождения длин и углов	1			Библиотека ЦОК https://m.edsoo.ru/8a14539c
34	Скалярное произведение векторов, его применение для нахождения длин и углов	1			Библиотека ЦОК https://m.edsoo.ru/8a14550e
35	Решение задач с помощью векторов	1			Библиотека ЦОК https://m.edsoo.ru/8a144c3a
36	Решение задач с помощью векторов	1			Библиотека ЦОК https://m.edsoo.ru/8a1458c4
37	Применение векторов для решения задач физики	1			
38	Контрольная работа по теме "Векторы"	1			Библиотека ЦОК https://m.edsoo.ru/8a145b08
39	Декартовы координаты точек на плоскости	1			
40	Уравнение прямой	1			Библиотека ЦОК https://m.edsoo.ru/8a145c48
41	Уравнение прямой	1			

42	Уравнение окружности	1			Библиотека ЦОК https://m.edsoo.ru/8a14635a
43	Координаты точек пересечения окружности и прямой	1			Библиотека ЦОК https://m.edsoo.ru/8a146620
44	Метод координат при решении геометрических задач, практических задач	1			
45	Метод координат при решении геометрических задач, практических задач	1			
46	Метод координат при решении геометрических задач, практических задач	1			
47	Контрольная работа по теме "Декартовы координаты на плоскости"	1			Библиотека ЦОК https://m.edsoo.ru/8a146e0e
48	Правильные многоугольники, вычисление их элементов	1			Библиотека ЦОК https://m.edsoo.ru/8a146fda
49	Число π . Длина окружности	1			Библиотека ЦОК https://m.edsoo.ru/8a1472c8
50	Число π . Длина окружности	1			Библиотека ЦОК https://m.edsoo.ru/8a14714c
51	Длина дуги окружности	1			
52	Радианная мера угла	1			Библиотека ЦОК https://m.edsoo.ru/8a14714c
53	Площадь круга, сектора, сегмента	1			Библиотека ЦОК https://m.edsoo.ru/8a147426
54	Площадь круга, сектора, сегмента	1			Библиотека ЦОК https://m.edsoo.ru/8a147750
55	Площадь круга, сектора, сегмента	1			Библиотека ЦОК https://m.edsoo.ru/8a147750
56	Понятие о движении плоскости	1			Библиотека ЦОК https://m.edsoo.ru/8a147c82
57	Параллельный перенос, поворот	1			Библиотека ЦОК https://m.edsoo.ru/8a147f16
58	Параллельный перенос, поворот	1			Библиотека ЦОК https://m.edsoo.ru/8a147f16
59	Параллельный перенос, поворот	1			
60	Параллельный перенос, поворот	1			
61	Применение движений при решении задач	1			Библиотека ЦОК https://m.edsoo.ru/8a1480e2
62	Контрольная работа по темам "Правильные многоугольники. Окружность. Движения плоскости"	1			
63	Повторение, обобщение, систематизация знаний. Измерение геометрических величин. Треугольники	1			Библиотека ЦОК https://m.edsoo.ru/8a148524
64	Промежуточная аттестация. Итоговая контрольная работа.	1			Библиотека ЦОК https://m.edsoo.ru/8a148650
65	Повторение, обобщение, систематизация знаний. Параллельные и перпендикулярные прямые.	1			
66	Повторение, обобщение, систематизация знаний. Окружность и круг. Геометрические построения. Углы в окружности.	1			
67	Повторение, обобщение, систематизация	1			Библиотека ЦОК

	знаний. Вписанные и описанные окружности многоугольников.				https://m.edsoo.ru/8a148920
68	Повторение, обобщение, систематизация знаний.	1			
ОБЩЕЕ КОЛИЧЕСТВО ЧАСОВ ПО ПРОГРАММЕ		68			

Приложения

1. Нормы оценивания

Для оценки планируемых результатов данной программой предусмотрено использование:

- вопросов и заданий для самостоятельной подготовки;
- заданий для подготовки к итоговой аттестации;
- тестовых задания для самоконтроля;

Виды контроля результатов обучения

1. Текущий контроль
2. Тематический контроль
3. Итоговый контроль

Методы и формы организации контроля

1. Устный опрос.
2. Монологическая форма устного ответа.
3. Письменный опрос: тестовые работы; самостоятельные работы; контрольные работы; математические диктанты.

Оценка письменных контрольных работ обучающихся по геометрии.

Ответ оценивается отметкой «5», если:

- работа выполнена полностью;
- в логических рассуждениях и обосновании решения нет пробелов и ошибок;
- в решении нет математических ошибок (возможна одна неточность, описка, которая не является следствием незнания или непонимания учебного материала).

Отметка «4» ставится в следующих случаях:

- работа выполнена полностью, но обоснования шагов решения недостаточны (если умение обосновывать рассуждения не являлось специальным объектом проверки);
- допущены одна ошибка или есть два – три недочёта в выкладках, рисунках, чертежах или графиках (если эти виды работ не являлись специальным объектом проверки).

Отметка «3» ставится, если:

- допущено более одной ошибки или более двух – трех недочетов в выкладках, чертежах или графиках, но обучающийся обладает обязательными умениями по проверяемой теме.

Отметка «2» ставится, если:

- допущены существенные ошибки, показавшие, что обучающийся не обладает обязательными умениями по данной теме в полной мере.

Отметка «1» ставится, если:

- работа показала полное отсутствие у обучающегося обязательных знаний и умений по проверяемой теме или значительная часть работы выполнена не самостоятельно.

Учитель может повысить отметку за оригинальный ответ на вопрос или оригинальное решение задачи, которые свидетельствуют о высоком математическом развитии обучающегося; за решение более сложной задачи или ответ на более сложный вопрос, предложенные обучающемуся дополнительно после выполнения им каких-либо других заданий.

Оценка устных ответов обучающихся по геометрии

Ответ оценивается отметкой «5», если ученик:

- полно раскрыл содержание материала в объеме, предусмотренном программой и учебником;
- изложил материал грамотным языком, точно используя математическую терминологию и символику, в определенной логической последовательности;
- правильно выполнил рисунки, чертежи, графики, сопутствующие ответу;
- показал умение иллюстрировать теорию конкретными примерами, применять ее в новой ситуации при выполнении практического задания;

- продемонстрировал знание теории ранее изученных сопутствующих тем, сформированность и устойчивость используемых при ответе умений и навыков;
- отвечал самостоятельно, без наводящих вопросов учителя;
- возможны одна – две неточности при освещении второстепенных вопросов или в выкладках, которые ученик легко исправил после замечания учителя.

Ответ оценивается отметкой «4», если удовлетворяет в основном требованиям на оценку «5», но при этом имеет один из недостатков:

- в изложении допущены небольшие пробелы, не исказившее математическое содержание ответа;
- допущены один – два недочета при освещении основного содержания ответа, исправленные после замечания учителя;
- допущены ошибка или более двух недочетов при освещении второстепенных вопросов или в выкладках, легко исправленные после замечания учителя.

Отметка «3» ставится в следующих случаях:

- неполно раскрыто содержание материала (содержание изложено фрагментарно, не всегда последовательно), но показано общее понимание вопроса и продемонстрированы умения, достаточные для усвоения программного материала (определены «Требованиями к математической подготовке обучающихся» в настоящей программе по математике);
- имелись затруднения или допущены ошибки в определении математической терминологии, чертежах, выкладках, исправленные после нескольких наводящих вопросов учителя;
- ученик не справился с применением теории в новой ситуации при выполнении практического задания, но выполнил задания обязательного уровня сложности по данной теме;
- при достаточном знании теоретического материала выявлена недостаточная сформированность основных умений и навыков.

Отметка «2» ставится в следующих случаях:

- не раскрыто основное содержание учебного материала;
- обнаружено незнание учеником большей или наиболее важной части учебного материала;
- допущены ошибки в определении понятий, при использовании математической терминологии, в рисунках, чертежах или графиках, в выкладках, которые не исправлены после нескольких наводящих вопросов учителя.

Отметка «1» ставится, если:

- ученик обнаружил полное незнание и непонимание изучаемого учебного материала или не смог ответить ни на один из поставленных вопросов по изученному материалу.

Общая классификация ошибок.

При оценке знаний, умений и навыков обучающихся следует учитывать все ошибки (грубые и негрубые) и недочёты.

Грубыми считаются ошибки:

- незнание определения основных понятий, законов, правил, основных положений теории, незнание формул, общепринятых символов обозначений величин, единиц их измерения;
- незнание наименований единиц измерения;
- неумение выделить в ответе главное;
- неумение применять знания, алгоритмы для решения задач;
- неумение делать выводы и обобщения;
- неумение пользоваться первоисточниками, учебником и справочниками;
- вычислительные ошибки, если они не являются опиской;
- логические ошибки.

К **негрубым ошибкам** следует отнести:

- неточность формулировок, определений, понятий, теорий, вызванная неполнотой охвата основных признаков определяемого понятия или заменой одного - двух из этих признаков второстепенными;
- нерациональный метод решения задачи или недостаточно продуманный план ответа (нарушение логики, подмена отдельных основных вопросов второстепенными);
- нерациональные методы работы со справочной и другой литературой;
- неумение решать задачи, выполнять задания в общем виде.

Недочетами являются:

- нерациональные приемы вычислений и преобразований;

-небрежное выполнение записей, чертежей, схем, графиков.

Критерии выставления оценок за проверочные тесты

1. Критерии выставления оценок за тест

1. Время выполнения работы: на усмотрение учителя.
2. Оценка «5» - 100 – 90% правильных ответов, «4» - 70-90%, «3» - 50-70%, «2» - менее 50% правильных ответов.

2.Оценочные материалы

7 класс

Контрольные работы из сборника:

Иченская М.А. Геометрия. Самостоятельные и контрольные работы. 7-9 классы– М.: Просвещение, 2014.

Контрольная работа № 1 по теме «Треугольники»

Вариант 1

1. Отрезки AB и CD пересекаются в точке O , являющейся серединой каждого из них. Докажите, что: а) треугольники AOD и BOC равны; б) $\angle DAO = \angle CBO$.
2. Луч AD – биссектриса угла A . На сторонах угла A отмечены точки B и C так, что $\angle ADB = \angle ADC$. Докажите, что $AB = AC$.
3. В треугольнике ABC $AB > BC > AC$. Найдите $\angle A$, $\angle B$, $\angle C$, если известно, что один из углов треугольника равен 120° , а другой 40° .
4. В треугольнике CDE точка M лежит на стороне CE , причем $\angle CMD$ острый. Докажите, что $DE > DM$.

Вариант 2

1. Отрезки ME и PK пересекаются в точке D , являющейся серединой каждого из них. Докажите, что: а) треугольники PDE и KDM равны; б) $\angle PED = \angle KMD$.
2. На сторонах угла D отмечены точки M и K так, что $DM = DK$. Точка P лежит внутри угла D и $PK = PM$. Докажите, что луч DP – биссектриса угла MDK .
3. В треугольнике ABC $AB < BC < AC$. Найдите $\angle A$, $\angle B$, $\angle C$, если известно, что один из углов треугольника прямой, а другой равен 30° .
4. В треугольнике MNP точка K лежит на стороне MN , причем $\angle NKP$ острый. Докажите, что $KP < MP$.

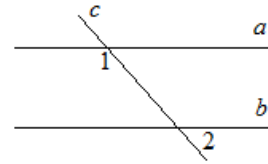
Контрольная работа № 2 по теме «Параллельные прямые. Сумма углов треугольника»

Вариант 1

1. На рисунке прямые a и b параллельны, $\angle 1 = 55^\circ$.
Найдите $\angle 2$.
2. Отрезки AC и BD пересекаются в их общей середине точке O . Докажите, что прямые AB и CD параллельны.
3. Отрезок DM – биссектриса треугольника CDE . Через точку M проведена прямая, параллельная стороне CD и пересекающая сторону DE в точке N . Найдите углы треугольника DMN , если $\angle CDE = 68^\circ$.
4. Периметр равнобедренного тупоугольного треугольника равен 45 см, а одна из его сторон больше другой на 9 см. Найдите стороны треугольника.
- 5*. На сторонах угла A , равного 45° , отмечены точки B и C , а во внутренней области угла – точка D так, что $\angle ABD = 95^\circ$, $\angle ACD = 90^\circ$. Найдите угол BDC .

Вариант 2

1. На рисунке прямые a и b параллельны, $\angle 1 = 115^\circ$.
Найдите $\angle 2$.



2. Отрезки AD и BC пересекаются в их общей середине точке M . Докажите, что прямые AC и BD параллельны.
3. Отрезок AD – биссектриса треугольника ABC . Через точку D проведена прямая, параллельная стороне AB и пересекающая сторону AC в точке F . Найдите углы треугольника ADF , если $\angle BAC = 72^\circ$.
4. Одна из сторон тупоугольного равнобедренного треугольника на 17 см меньше другой. Найдите стороны этого треугольника, если его периметр равен 77 см.
- 5*. На сторонах угла A , равного 125° , отмечены точки B и C , а внутри угла – точка D так, что $\angle ABD = 65^\circ$, $\angle ACD = 40^\circ$. Найдите угол BDC .

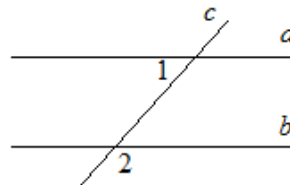
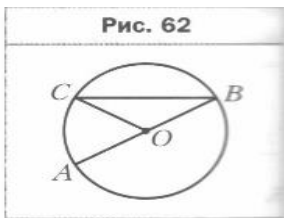
Контрольная работа № 3 по теме:

«Окружность и круг. Геометрические построения»

Вариант 1.

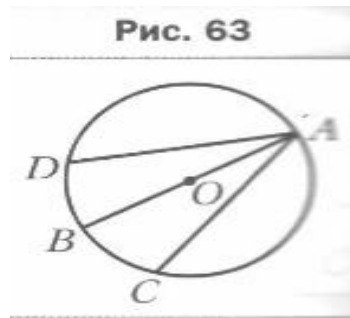
- № 1. На рисунке 62 точка O – центр окружности, $\angle ABC = 28^\circ$.
Найдите угол AOC .

Найдите угол



- № 2. К окружности с центром O проведена касательная CD (D – точка касания). Найдите отрезок OC , если радиус окружности равен 6 см и $\angle DCO = 30^\circ$.

- № 3. В окружности с центром O проведены диаметр AB и хорды AC и AD так, что $\angle BAC = \angle BAD$ (рис.63). Докажите, что $AC = AD$.

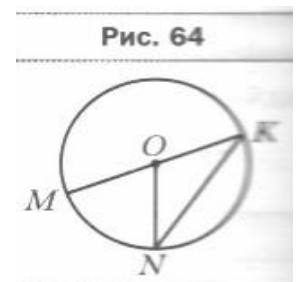


- № 4. Постройте равнобедренный и основанию и постройте в нем стороне BC с помощью циркуля и линейки.

треугольник ABC по боковой стороне
серединный перпендикуляр к боковой

Вариант 2.

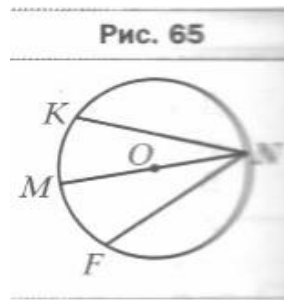
- № 1. На рисунке 64 точка O – центр окружности, $\angle MON = 68^\circ$. Найдите угол MKN .



- № 2. К окружности с центром O проведена касательная AB (A – точка касания). Найдите радиус окружности, если $OB = 10$ см и $\angle ABO = 30^\circ$.

- № 3. В окружности с центром O проведены диаметр MN и хорды NF и NK так, что $NF = NK$ (рис.65).

Докажите, что $\angle MNK = \angle MNF$.



№ 4. Постройте равносторонний треугольник ABC и биссектрису угла C с помощью циркуля и линейки.

Оценочные материалы 8 класс

КОНТРОЛЬНАЯ РАБОТА № 1

Вариант 1

1. Диагонали прямоугольника ABCD пересекаются в точке O. Найдите угол между диагоналями, если $\angle ABO = 30^\circ$.

2. В параллелограмме KMNP проведена биссектриса угла MKP, которая пересекает сторону MN в точке E.

а) Докажите, что треугольник KME равнобедренный.

б) Найдите сторону KP, если ME = 10 см, а периметр параллелограмма равен 52 см.

Вариант 2

1. Диагонали ромба KMNP пересекаются в точке O. Найдите углы треугольника KOM, если $\angle MNP = 80^\circ$.

2. На стороне BC параллелограмма ABCD взята точка M так, что $AB = BM$.

а) Докажите, что AM — биссектриса угла BAD.

б) Найдите периметр параллелограмма, если $CD = 8$ см, $CM = 4$ см.

КОНТРОЛЬНАЯ РАБОТА №2

Вариант 1

1. На рисунке 21 $AB \parallel CD$.

а) Докажите, что $AO : OC = BO : OD$.

б) Найдите AB, если $OD = 15$ см, $OB = 9$ см, $CD = 25$ см.

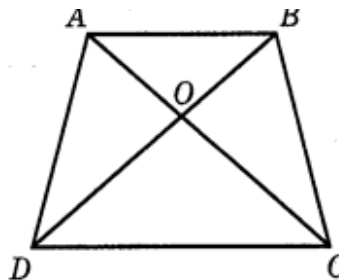


Рис. 21

2. Найдите отношение площадей треугольников ABC и KMN, если $AB = 8$ см, $BC = 12$ см, $AC = 16$ см, $KM = 10$ см, $MN = 15$ см, $NK = 20$ см.

Вариант 2

1. На рисунке 22 $MN \parallel AC$.

а) Докажите, что $AB \cdot BN = CB \cdot BM$.

б) Найдите MN, если $AM = 6$ см, $BM = 8$ см, $AC = 21$ см.

2. Даны стороны треугольников PQR и ABC: $PQ = 16$ см, $QR = 20$ см, $PR = 28$ см и $AB = 12$ см, $BC = 15$ см, $AC = 21$ см. Найдите отношение площадей этих треугольников.

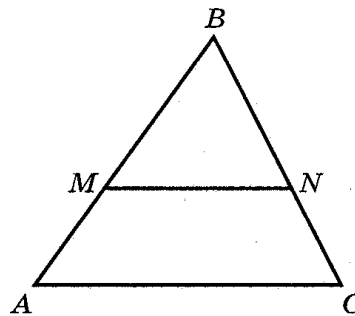


Рис. 22

КОНТРОЛЬНАЯ РАБОТА №3

Вариант 1

1. Смежные стороны параллелограмма равны 32 см и 26 см, а один из его углов равен 150° . Найдите площадь параллелограмма.

2. Площадь прямоугольной трапеции равна 120 см^2 , а ее высота равна 8 см. Найдите все стороны трапеции, если одно из оснований больше другого на 6 см.

3. На стороне AC данного треугольника ABC постройте точку D так, чтобы площадь треугольника ABD составила одну треть площади треугольника ABC .

Вариант 2

1. Одна из диагоналей параллелограмма является его высотой и равна 9 см. Найдите стороны этого параллелограмма, если его площадь равна 108 см^2 .

2. Найдите площадь трапеции $ABCD$ с основаниями AD и BC , если известно, что $AB = 12 \text{ см}$, $BC = 14 \text{ см}$, $AD = 30 \text{ см}$, $\angle B = 150^\circ$.

3. На продолжении стороны KN данного треугольника KMN постройте точку P так, чтобы площадь треугольника NMP была в два раза меньше площади треугольника KMN .

КОНТРОЛЬНАЯ РАБОТА № 4

Вариант 1

1. В прямоугольном треугольнике ABC $\angle A = 90^\circ$, $AB = 20 \text{ см}$, высота AD равна 12 см. Найдите AC и $\cos C$.

2. Диагональ BD параллелограмма $ABCD$ перпендикулярна к стороне AD . Найдите площадь параллелограмма $ABCD$, если $AB = 12 \text{ см}$, $\angle A = 41^\circ$.

Вариант 2

1. Высота BD прямоугольного треугольника ABC равна 24 см и отсекает от гипотенузы AC отрезок DC , равный 18 см. Найдите AB и $\cos A$.

2. Диагональ AC прямоугольника $ABCD$ равна 3 см и составляет со стороной AD угол 37° . Найдите площадь прямоугольника $ABCD$.

КОНТРОЛЬНАЯ РАБОТА № 5

Вариант 1

1. Через точку A окружности проведены диаметр AC и две хорды AB и AD , равные радиусу этой окружности. Найдите углы четырехугольника $ABCD$ и градусные меры дуг AB , BC , CD , AD .

2. Основание равнобедренного треугольника равно 18 см, а боковая сторона равна 15 см. Найдите радиусы вписанной в треугольник и описанной около треугольника окружностей.

Вариант 2

1. Отрезок BD — диаметр окружности с центром O . Хорда AC делит пополам радиус OB и перпендикулярна к нему. Найдите углы четырехугольника $ABCD$ и градусные меры дуг AB , BC , CD , AD .

2. Высота, проведенная к основанию равнобедренного треугольника, равна 9 см, а само основание равно 24 см. Найдите радиусы вписанной в треугольник и описанной около треугольника окружностей.

9 класс

Контрольная работа №1 по теме «Решение треугольников»

Вариант 1	Вариант 2
1. Найдите площадь треугольника KLM , в котором $LM=4$ см, $KM=8$ см, $\angle M=45^\circ$.	1. Найдите площадь треугольника ABC , в котором $AB=7$ см, $BC=12$ см, $\angle B=30^\circ$.
2. В треугольнике ABC $\angle A = 45^\circ$, $\angle B = 60^\circ$, $BC = 4\sqrt{2}$. Найдите AC .	2. В треугольнике ABC $\angle A = 30^\circ$, $\angle B = 45^\circ$, $AC = 3\sqrt{2}$. Найдите BC .
3. Две стороны треугольника равны 6 см и 16 см, а угол между ними равен 60° . Решите треугольник.	3. Две стороны треугольника равны 4 см и 6 см, а угол между ними равен 60° . Решите треугольник.
4. Площадь параллелограмма равна $30\sqrt{2}$ см ² , а один из углов равен 60° . Найдите его периметр, если длина одной из сторон равна 6 см.	4. Диагонали параллелограмма равны 34 и 38 см, а стороны относятся как 2:3. Найдите его периметр.

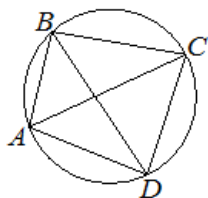
Контрольная работа по геометрии №2

на тему «Преобразование подобия. Метрические соотношения в окружности»

Вариант 1

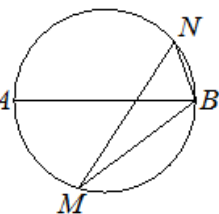
Задача 1.

Четырехугольник $ABCD$ вписан в окружность. Угол ABD равен 51° , угол CAD равен 42° . Найдите угол ABC . Ответ дайте в градусах.



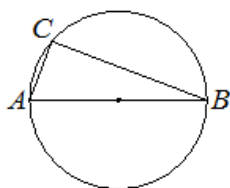
Задача 2.

На окружности по разные стороны от диаметра AB взяты точки M и N . Известно, что $\angle NBA = 68^\circ$. Найдите угол NMB . Ответ дайте в градусах.

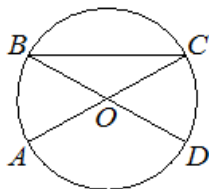


Задача 3.

Центр окружности, описанной около треугольника ABC , лежит на стороне AB . Радиус окружности равен $6,5$. Найдите AC , если $BC=12$.



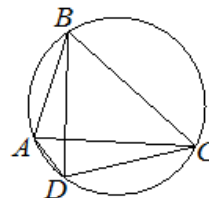
Задача 4.



В окружности с центром в точке O отрезки AC и BD - диаметры. Угол AOD равен 114° . Найдите угол ACB . Ответ дайте в градусах.

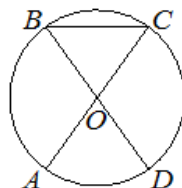
Задача 5.

Четырёхугольник $ABCD$ вписан в окружность. Угол ABC равен 70° , угол CAD равен 49° . Найдите угол ABD . Ответ дайте в градусах.



Задача 6.

Отрезки AC и BD - диаметры окружности с центром в точке O . Угол ACB равен 54° . Найдите угол AOD . Ответ дайте в градусах.

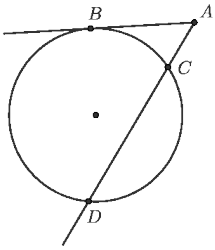


Задача 7.

Хорды AB и CD окружности пересекаются в точке E . Найти ED , если $AE=3$, $BE=4$, $CE=2$

Задача 8.

Через точку A , лежащую вне окружности, проведены две прямые. Одна прямая касается окружности в точке K . Другая прямая пересекает окружность в точках B и C , причём $AB = 2$, $AC = 8$. Найдите AK .



Задача 9.

Из точки A вне окружности проведена касательная AB и секущая AD , как показано на картинке. Найдите длину отрезка AC , если $CD=5$, а длина отрезка касательной равна $6\sqrt{2}$.

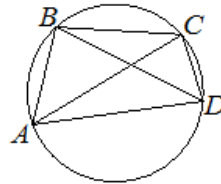
Задача 10.

Точки M и P лежат соответственно на сторонах BC и AB треугольника ABC , причем $MP \parallel AC$. Найдите сторону AB , если $AC=12$ см, $MP=4$ см, $PB=5$ см?

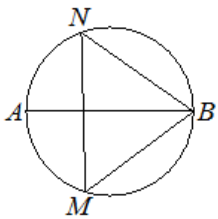
Вариант 2

Задача 1.

Четырёхугольник $ABCD$ вписан в окружность. Угол ABD равен 80° , угол CAD равен 34° . Найдите угол ABC . Ответ дайте в градусах.



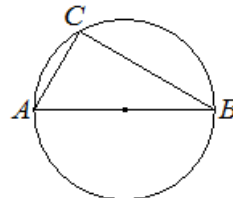
Задача 2.



На окружности по разные стороны от диаметра AB взяты точки M и N . Известно, что $\angle NBA=34^\circ$. Найдите угол NMB . Ответ дайте в градусах.

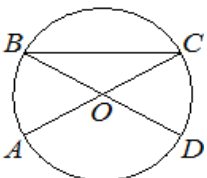
Задача 3.

Центр окружности, описанной около треугольника ABC , лежит на стороне AB . Радиус окружности равен $8,5$. Найдите BC , если $AC=8$.



Задача 4.

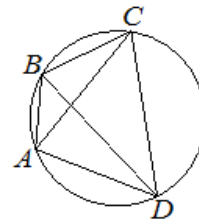
В окружности с центром в точке O отрезки AC и BD - диаметры. Угол AOD равен 148° . Найдите угол ACB . Ответ дайте в градусах.



Задача 5.

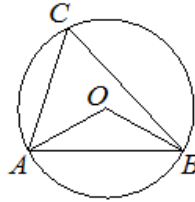
Четырёхугольник ABCD вписан в окружность. Угол ABC равен 132° , угол CAD равен 80° .

Найдите угол ABD. Ответ дайте в градусах.



Задача 6.

Треугольник ABC вписан в окружность с центром в точке O. Точки O и C лежат в одной полуплоскости относительно прямой AB. Найдите угол ACB, если угол AOB равен 115° . Ответ дайте в градусах.



Задача 7.

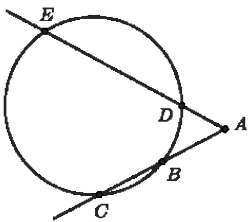
Хорды AC и BD окружности пересекаются в точке P. Найти AP, если BP=15, CP=6, DP=10

Задача 8.

Через точку A, лежащую вне окружности, проведены две прямые. Одна прямая касается окружности в точке K. Другая прямая пересекает окружность в точках B и C, причём, AB=3, AC=12. Найдите AK

Задача 9.

Точки B, C, D и E угла CAE лежат на окружности, причём точка B лежит на AC. AB=3, AC=6, AD=2. Найдите DE.



Задача 10.

Точки K и H лежат соответственно на сторонах AC и CB треугольника ABC, причём $MP \parallel AB$. Найти сторону AC, если KC=12см, KH=6см, AB=8см?

Контрольная работа № 3. Векторы

1 вариант.

1. Начертите два неколлинеарных вектора \vec{a} и \vec{b} . Постройте векторы, равные:

а) $\frac{1}{2}\vec{a} + 3\vec{b}$; б) $2\vec{b} - \vec{a}$

2. На стороне BC ромба ABCD лежит точка K такая, что $BK = KC$, O – точка пересечения диагоналей.

Выразите векторы \vec{AO} , \vec{AK} , \vec{KD} через векторы $\vec{a} = \vec{AB}$ и $\vec{b} = \vec{AD}$.

3. В равнобедренной трапеции высота делит большее основание на отрезки, равные 5 и 12 см. Найдите среднюю линию трапеции.

2 вариант

1. Начертите два неколлинеарных вектора \vec{m} и \vec{n} . Постройте векторы, равные:

а) $\frac{1}{3}\vec{m} + 2\vec{n}$; б) $3\vec{n} - \vec{m}$

2. На стороне CD квадрата ABCD лежит точка P такая, что $CP = PD$, O – точка пересечения диагоналей. Выразите векторы \vec{BO} , \vec{BP} , \vec{PA} через векторы $\vec{x} = \vec{BA}$ и $\vec{y} = \vec{BC}$

3. В равнобедренной трапеции один из углов равен 60° , боковая сторона равна 8 см, а меньшее основание 7 см. Найдите среднюю линию трапеции.

Контрольная работа №4
Декартовы координаты
Вариант 1

1. Даны точки $M(-6; 3)$ и $P(8; -7)$. Найдите длину отрезка MP и координаты его середины.
2. Точка $H(-3; 6)$ принадлежит окружности, а точка $K(-9; 2)$ – центр этой окружности. Составьте уравнение окружности.
3. Найдите координаты вершины B параллелограмма $ABCD$, если $A(-3; -2)$, $C(4; 1)$, $D(2; 5)$.
4. Составьте уравнение прямой, проходящей через точки $F(7,5; 8)$ и $T(15; -7)$.
5. Найдите координаты точки, принадлежащей оси ординат и равноудалённой от точек $N(-5; 12)$ и $S(4; -3)$.

Вариант 2

1. Даны точки $D(7; -8)$ и $R(-2; 4)$. Найдите длину отрезка DR и координаты его середины.
2. Точка $T(5; -3)$ принадлежит окружности, а точка $S(-7; -9)$ – центр этой окружности. Составьте уравнение окружности.
3. Найдите координаты вершины A параллелограмма $ABCD$, если $B(-2; 4)$, $C(6; 2)$, $D(3; -4)$.
4. Составьте уравнение прямой, проходящей через точки $X(8; 14,5)$ и $Y(-6; -10,7)$.
5. Найдите координаты точки, принадлежащей оси абсцисс и равноудалённой от точек $P(7; -3)$ и $K(-4; -2)$.

Контрольная работа №5 по теме «Правильные многоугольники. Окружность»

1 вариант

1. Найдите площадь круга и длину ограничивающей его окружности, если сторона правильного треугольника, вписанного в него, равна $5\sqrt{3}$ см.
2. Вычислите длину дуги окружности с радиусом 4 см, если её градусная мера равна 120° . Чему равна площадь соответствующего данной дуге кругового сектора?
3. Периметр правильного треугольника, вписанного в окружность, равен $6\sqrt{3}$ см. Найдите периметр правильного шестиугольника, описанного около той же окружности.

2 вариант

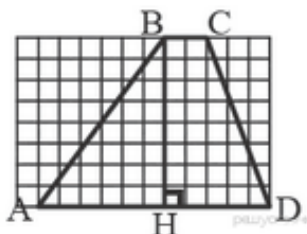
1. Найдите площадь круга и длину ограничивающей его окружности, если сторона квадрата, описанного около него, равна 6 см.
2. Вычислите длину дуги окружности с радиусом 10 см, если её градусная мера равна 150° . Чему равна площадь соответствующего данной дуге кругового сектора?
3. Периметр квадрата, описанного около окружности, равен 16 дм. Найдите периметр правильного пятиугольника, вписанного в эту же окружность.

Промежуточная аттестация.

Итоговая контрольная работа по геометрии 9 класс

Вариант 1

1. Сумма двух углов равнобедренной трапеции равна 140° . Найдите больший угол трапеции. Ответ дайте в градусах.
2. Периметр ромба равен 24, а синус одного из углов равен $1/3$. Найдите площадь ромба.
3. На рисунке изображена трапеция. Используя рисунок, найдите $\cos HBA$.



4. Укажите номера верных утверждений.

- 1) Смежные углы равны.
- 2) Треугольник со сторонами 1, 2, 4 не существует.
- 3) Если угол равен 108° , то вертикальный с ним равен 108° .

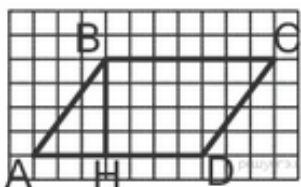
5. Отрезки AB и CD являются хордами окружности. Найдите длину хорды CD , если $AB = 20$, а расстояния от центра окружности до хорд AB и CD равны соответственно 24 и 10.

Вариант 2

1. Сумма двух углов равнобедренной трапеции равна 220° . Найдите меньший угол трапеции. Ответ дайте в градусах.

2. Одна из сторон параллелограмма равна 12, а опущенная на нее высота равна 10. Найдите площадь параллелограмма.

3. На рисунке изображен параллелограмм. Используя рисунок, найдите $\sin HBA$.



4. Укажите номера верных утверждений.

- 1) Через точку, не лежащую на данной прямой, можно провести прямую, параллельную этой прямой.
- 2) Треугольник со сторонами 1, 2, 4 существует.
- 3) Если в ромбе один из углов равен 90° , то такой ромб — квадрат.

5. Отрезки AB и CD являются хордами окружности. Найдите расстояние от центра окружности до хорды CD , если $AB = 18$, $CD = 24$, а расстояние от центра окружности до хорды AB равно 12.

Норма оценивания:

Отметка	«3»	«4»	«5»
Кол-во заданий	3 задания	4 заданий	5 заданий

3. Учебно-методическое и материально-техническое обеспечение

Учебник:

- Геометрия, 7—9 классы: учебник для общеобразовательных учреждений / Л.С. Атанасян, В.Ф. Бутузов, С.В. Кадомцев и др. — М.: Просвещение, 2019 г.

Дидактические материалы

- Иченская М.А. Геометрия. Самостоятельные и контрольные работы. 7-9 классы— М.: Просвещение, 2014.
- Тесты по геометрии: 9 класс: к учебнику Л.С.Атанасяна и других. «Геометрия, 7-9»/ А.В.Фарков— М.: Изд. «Экзамен», 2017 г.
- Зив Б.Г. Геометрия: дидактические материалы для 9 класса / Б. Г. Зив, В.М. Мейлер. — М.: Просвещение, 2011 г.
- Контрольно-измерительные материалы. Геометрия 9 класс/Сост. А.Н.Рурукин.—М.:ВАКО,2016г.

Дополнительная литература:

- Мищенко Т.М. Геометрия. Планируемые результаты. Система заданий. 7-9 классы. —М.: Просвещение, 2014.
- Геометрия 7 – 9 классы: задачи на готовых чертежах для подготовки к ГИА и ЕГЭ / Э.Н. Балаян. – Ростов-на-Дону: Издательство «Феникс», 2013.
- Геометрия в таблицах. 7 – 11 кл.: справочное пособие / авт.-сост. Л. И. Звавич, А.Р.Рязановский. – 19 –е изд. – М.: Дрофа, 2014.

Цифровые образовательные ресурсы:

- Учительский портал <http://www.uchportal.ru>
- Портал готовых презентаций <http://prezentaci.com>
- Единая коллекция цифровых образовательных ресурсов <http://school-collection.edu.ru>
- Завуч-инфо <http://www.zavuch.info>

- Фестиваль педагогических идей <http://festival.1september.ru/>
- Открытый банк заданий для ГИА <http://mathgia.ru>
- Открытый банк заданий для ЕГЭ <http://mathege.ru>
- Сайт «Федерального института педагогических измерений» <http://www.fipi.ru/>
- www.1september.ru - все приложения к газете «1 сентября»
- <http://www.uroki.net/docmat.htm> - для учителя математики, алгебры и геометрии
- <http://matematika-na5.narod.ru/> - математика на 5! Сайт для учителей математики
- <http://www.alleng.ru/edu/math1.htm> - к уроку математики
- Российская электронная школа. <https://resh.edu.ru/>
- «Учи.ру» — <https://uchi.ru/>
- «Яндекс. Учебник» <https://education.yandex.ru/home/>
- «ЯКласс» . <https://www.yaklass.ru/>
- Фоксфорд <https://foxford.ru/about>
- «Сириус. Онлайн» . <https://edu.sirius.online>
- «Маркетплейс образовательных услуг»
- «Яндекс», «1С», «Учи.ру», «Скайенг», «Кодвардс»,
- издательство «Просвещение» и другие. <https://education.ru/>
- «ИнтернетУрок» —. <https://interneturok.ru/>
- Образовательная платформа «Лекта» . <https://lecta.rosuchebnik.ru/>
- <https://edu.skysmart.ru/>

Технические средства обучения:

- Ноутбук
- Мышь
- Колонки
- Проектор
- Экран навесной

Учебно-практическое оборудование:

- Аудиторная доска с магнитной поверхностью и набором приспособлений для крепления таблиц;
- Шкафы секционные для хранения литературы и демонстрационного оборудования;
- Комплект стереометрических тел (демонстрационный)

Комплект чертежных инструментов:

- Циркуль
- Транспортир
- угольник (30⁰, 60⁰), угольник (45⁰, 45⁰)
- Метровая линейка